

ESTUDIOS ANALÍTICOS

sobre la disposicion mas económica de armaduras articuladas i estáticamente determinadas.

El presente trabajo debe considerarse como continuacion de dos artículos anteriores, publicados por el mismo autor, bajo titulos análogos en los números de estos Anales, correspondientes a los meses de Setiembre del 1895 i Febrero del 1896.

Estos estudios deben aparecer próximamente en la *Zeitschrift des Vereins Deutscher Ingenieure* (Revista Periódica de los Ingenieros Alemanes). La redaccion de esta importante revista los habia sometido al juicio del eminente profesor de ingeniería, señor G. Barkenhausen, en Hanóver, de competencia reconocida en materia de construcciones de fierro. Este ingeniero, al mismo tiempo de aducir algunas consideraciones que, en el estado actual del desarrollo de mis teorías, restringen el alcance práctico de sus resultados, llega a la conclusion de que mis investigaciones ofrecen *un material valioso para la enseñanza de Matemáticas en las Escuelas técnicas.*

Sistema de anotaciones: En lo sucesivo designaremos las diferentes piezas (barras prismáticas) de una armadura articulada con los números 1, 2, 3....., las intensidades de los esfuerzos axiales que las afectan con I, II, III....., sus longitudes entre nudo i nudo con l_1, l_2, l_3, \dots , i sus volúmenes con V_1, V_2, V_3, \dots .

Los coeficientes de seguridad sean n i m , segun que el esfuerzo respectivo sea traccion o compresion, de suerte que en

el primer caso $V = n l S$, i en segundo $V = m l S$, donde S es la intensidad del esfuerzo respectivo (véanse los artículos anteriores).

El último caso contemplado llevaba el número V.

teriores.

VI. Una pared vertical sostiene en los puntos M i N ($M N = a$) dos palancas M Z i N Z, destinadas a soportar un peso P suspendido por una cuerda a la distancia d de la pared. Averiguar a qué altura debe elejirse el punto (articulado) de amarra Z, para que la construccion de las palancas exija un mínimun de material?

Solucion: La figura 6_b representa el diagrama mui sencillo que manifiesta los esfuerzos I i II, enjendrados en las palancas 1 i 2, i la traslacion de las flechas hace ver que I es traccion i II compresion.

De la semejanza de los triángulos M N Z i abc fluyen las siguientes proporciones:

$$I : l_1 = P : a \quad i \quad II : l_2 = P : a;$$

por consiguiente:

$$(1) \dots \dots \dots I = \frac{P l_1}{a} \quad II = \frac{P l_2}{a} \quad \dots \dots \dots (2)$$

Segun lo arriba establecido tenemos

$$V_1 = n I l_1 \quad i \quad V_2 = m II l_2$$

Introduciendo los valores de las ecuaciones (1) i (2) resulta:

$$V_1 = \frac{n P}{a} l_1 \quad , \quad V_2 = \frac{m P}{a} l_2$$

Designando con X la distancia vertical del punto de amarra Z encima de la articulacion superior N, se deduce:

$$l^2 = X^2 + d^2 \quad ; \quad l_2^2 = (X + a)^2 + d^2$$

Con estos valores obtenemos para el volúmen total

$$V = V_1 + V_2$$

de la construcción, la siguiente expresión analítica:

$$(3) \dots \dots \dots \quad V = \frac{P}{a} \left[n (x^2 + d^2) + m [(x+a)^2 + d^2] \right]$$

Para obtener los valores límites de la expresión debemos considerar la función:

$$y = n (x^2 + d^2) + m (x^2 + 2 a x + a^2 + d^2), \text{ o sea}$$

$$y = (m+n) (x^2 + d^2) + d m a x + m a^2.$$

Diferenciando resulta:

$$y' = 2 (m+n) x + 2 m a = 0, \text{ i luego}$$

$$x = - \frac{m}{m+n} a.$$

La segunda derivada es $y'' = +2 (m+n)$, lo que nos dice que el valor encontrado para X enjendra el *valor mínimo* del volúmen total. El signo negativo de X indica que el punto de amarra Z debe elejirse *debajo* del punto N , pero siempre estará situado entre M i N , pues la fracción $\frac{m}{m+n}$ es siempre menor de 1.

Quando los dos coeficientes m i n son iguales, resulta $X = - \frac{a}{2}$, es decir en este caso la situación mas favorable del punto Z será en el medio entre M i N . Es de notar que la distancia X es totalmente independiente de la distancia d .

Con relacion a la misma figura 6, nos proponemos todavia averiguar:

¿Cuál es, siendo invariable la posicion de la palanca 1, la situacion mas favorable de la barra 2?

Solucion: En este caso x es constante= p i a variable= z , luego en virtud de la ecuacion (3):

$$V = \frac{P}{z} \left[n(p^2 + d^2) + m(p^2 + 2pz + z^2 + d^2) \right]; \text{ por consiguiente:}$$

$$(4) \dots \dots \frac{V}{P} = y = \frac{(m+n)(p^2 + d^2)}{z} + 2mp + mz.$$

Diferenciando segun la variable z se sigue:

$$y' = - \frac{(m+n) l_1^2}{z^2} + m = 0 \text{ i finalmente}$$

$$z = \pm \sqrt{\frac{m+n}{m}} l_1$$

Considerando el valor positivo de z , es decir M debajo de N , la segunda derivada $y'' = + \frac{(2m+n)}{z^3} l_1^2$ es positiva, es decir en este caso se produce un valor mínimo del volúmen total de la construccion.

Pero si se quiere elejir el punto M encima del punto fijo N , es decir, z negativo, es evidente que la palanca 1 es comprimida i 2 estirada. Tenemos en consecuencia:

$$V_1 = \frac{mP}{z} l_1^2; \quad V_2 = \frac{nP}{z} l_2^2, \text{ es decir se}$$

deben cambiar los factores m i n ; pero al mismo tiempo hai que alterar el signo aljebráico de p i volver a considerar a z como positivo, de suerte que en este caso la distancia $z = \sqrt{\frac{m+n}{n}} l_1$ (en-

cima de N) enjendra un volúmen total *mínimo*. Se vé que en ámbos casos, la distancia z es independiente de la *inclinacion* de la palanca fija $N z$.

Con $m = n$ sigue en ámbos casos $z = l_1 \sqrt{2}$

En el primero de los casos trataados, introduciendo el valor

$z = \sqrt{\frac{m+n}{m}} l_1$, en la ecuacion (4), resulta:

$$\frac{\text{mín. } V}{P} = \sqrt{m(m+n)} l_1 + 2 m p + \sqrt{m(m+n)} l_1, \text{ es decir}$$

$$5) \dots \dots \dots \text{mín. } V = 2 P \left[\sqrt{m(m+n)} l_1 + m p \right]$$

Cambiando los factores m i n i alterando simultáneamente el signo de p , se obtiene el valor mínimo correspondiente al segundo caso:

$$(6) \dots \dots \dots \text{mín. } V = 2 P \left[\sqrt{n(m+n)} - n p \right]$$

Cuando la palanca fija va inclinada hácia abajo, es decir, p negativo, disminuye el primer valor mínimo i crece el segundo.

Con $m = n$ el primer valor es

$$\text{mín. } V = 2 m P (l_1 \sqrt{2} + p) \text{ i el}$$

$$\text{segundo mín. } V = 2 n P (l_1 \sqrt{2} - p),$$

es decir en este caso conviene apoyar la palanca fija desde abajo o desde arriba, segun vaya inclinada hácia arriba o hácia abajo. Pero, cuando los coeficientes m i n tienen valores numéricos mui diferentes (como sucede de ordinario), entónces

para decidir esta cuestión es menester comparar los valores numéricos de (5) i (6).

Cuando la barra fija es horizontal, es decir $p=0$, se obtiene

$$\text{en el primer caso: } \text{mín. } V = 2 P \sqrt{m(m+n)} l,$$

$$\text{i en el segundo; } \text{mín. } V = 2 P \sqrt{n(m+n)} l,$$

Por consiguiente, según en este caso n sea mayor o menor que m , será preferible disponer el apoyo desde abajo o desde arriba.

VII

La figura 7_a representa una armadura articulada estable únicamente para el caso de una carga simétrica del borde superior AB . La viga inclinada está dividida en tres campos iguales $AC = CD = DB = l$, independientes entre sí i unidos por articulaciones, i las barras 3 i 6 son iguales i paralelas.—La carga del borde superior sea $= 2 p$ ton. por metro corriente, luego la carga total $= 6 pl$. El sistema de las fuerzas exteriores, distribuidas sobre los nudos superiores, está marcado en la figura.

La figura 7_b representa el diagrama de Cremona (*) correspondiente a este sistema.

Por traslación de las flechas se infiere, que los tres miembros del borde superior, así como las piezas paralelas CE i DF son comprimidas, mientras que las tres barras del borde inferior sufren tracción.

Nos proponemos el siguiente problema:

¿Cuál es, bajo el punto de vista económico, la longitud X mas favorable para las palancas CE i DF ?

(*) La interesante teoría de los Diagramas de Cremona, de importancia trascendental en la práctica, se encuentra espuesta con la mayor claridad en la obra: *Tratado de Estática gráfica*, por Julio Pflüger, Santiago.

Solucion: Como línea auxiliar trazamos por E la vertical EG, entónces los triángulos *EGA* i *abc* son semejantes i se deducen las proporciones:

$$bc : AG = ab : EG, \text{ y } ac : AE = ab : EG; \text{ o'}$$

$$I : (l - CG) = 2pl : EG, \text{ y } II : l_2 = 2pl : EG;$$

por consiguiente: $I = 2pl \frac{l - CG}{EG}$, y $II = 2pl \frac{l_2}{EG}$

Del triángulo *ECG* se sigue inmediatamente:

$$CG = \frac{X \sin (r-t)}{\sin r}, \text{ y } EG = \frac{X \sin t}{\sin r}.$$

Introduciendo estos valores resulta:

$$(1) \dots V_1 = mI l = \frac{2m pl^3 \sin r}{X \sin t} - \frac{2m pl^2 \sin (r-t)}{\sin t}.$$

$$V_2 = nII l_2 = \frac{2np l_2^2 \sin r}{X \sin t}.$$

Del triángulo *ACE* se deduce:

$$l_2^2 = X^2 - 2l X \cos t + l^2;$$

luego:

$$(2) \dots V_2 = \frac{2n pl X \sin r}{\sin t} - 4n pl^2 \sin r \cot t + \frac{2n pl^3 \sin r}{X \sin t}$$

De la semejanza de los triángulos *ACE* i *adc* se sigue:

$$cd : CE = ac : AE, \text{ o sea } III : X = II : l.$$

por consiguiente:

$$\text{III} = \text{II} \frac{X}{l_2} = \frac{2pl \sin r}{\sin t},$$

i como III es una compresion:

$$(3) \dots\dots V_3 = m \text{ III } X = \frac{2m pl X \sin r}{\sin t}$$

Así mismo se verifica la proporcion:

$$\text{ad} : \text{AC} = \text{ac} : \text{AE}, \text{ o sea } \text{IV} : l = \text{II} : l_2,$$

luego:

$$\text{IV} = \text{II} \frac{l}{l_2} = \frac{2pl^2 \sin r}{X \sin t}$$

$$(4) \dots\dots V_4 = m \text{ IV } l = \frac{2m pl^3 \sin r}{X \sin t}.$$

El esfuerzo V es igual a IV, solamente que es traccion en vez de compresion, por consiguiente:

$$(5) \dots\dots V_5 = \frac{2n pl^3 \sin r}{X \sin t}.$$

En la figura 7_b se vé que VI = dg = cd = III (ámbos esfuerzos son compresiones); de ahí:

$$(6) \dots\dots V_6 = \frac{2m pl X \sin r}{\sin t}.$$

La misma figura patentiza que:

$$\text{fg} + \text{bc} = 2 \text{ ad},$$

o sea:

$$\text{VII} = \text{I} = 2 \text{ IV},$$

luego:

$$\text{VII} = 2 \text{ IV} - \text{I} = \frac{2pl \sin r}{X \sin t} + \frac{2pl \sin (r-t)}{\sin t},$$

por consiguiente: como el esfuerzo VII es compresion:

$$(7) \dots V_7 = m \text{ VII } l = \frac{2m \text{ pl}^3 \sin r}{X \sin t} + \frac{2m \text{ pl}^2 \sin (r-t)}{\sin t}$$

De la semejanza de los triángulos BDF i adg fluye la proporcion.

$$\text{ag: BF} = \text{ad: BD, o sea VIII: } l_8 = \text{V: } l;$$

luego:

$$\text{VIII} = \text{V} \frac{l_8}{l} = \frac{2 \text{ pl} \sin r}{X \sin t} l_8;$$

por consiguiente:

$$V_8 = n \text{ VIII } l_8 = \frac{2n \text{ pl} \sin r}{X \sin t} l_8^2.$$

Del triángulo BDF se deduce que:

$$l_8^2 = X^2 + 2l X \cos t + l^2;$$

de ahí:

$$(8) \quad V_8 = \frac{2n \text{ pl} X \sin r}{\sin t} = 4n \text{ pl}^2 \sin r \cotg t = \frac{2n \text{ pl}^3 \sin r}{X \sin t}$$

Sumando las ecuaciones (1), (2), (3).. (8) se destruyen dos pares de miembros i se obtiene finalmente para el volúmen total V del material exigible la espresion:

$$V = \frac{2(m+n) \text{ pl} \sin r}{\sin t} \left[\frac{3l^2}{X} + 2X \right]$$

Para determinar su valor mínimo, hai que considerar la funcion:

$$y = \frac{3l^2}{X} + 2X.$$

Diferenciando resulta:

$$y' = -\frac{3l^2}{X^2} + 2 = 0, \quad \text{luego } X^2 = \frac{3l^2}{2}i$$

$$i \quad X = \frac{1}{2}l\sqrt{6}.$$

La segunda derivada es positiva, luego este valor de X produce un *valor mínimo* del volúmen total; es fácil de calcular i también admite una construcción jeométrica sencilla.

Introduciendo este valor de X , se obtiene:

$$\text{mín } V = 4 (m + n) \frac{pl \sin r}{\sin t} \sqrt{6l}$$

Esta expresión manifiesta que conviene colocar las barras paralelas $CE = DF = \frac{1}{2} \sqrt{6}$ perpendicularmente a la viga AB .

Digna de llamar la atención es la circunstancia de que la longitud X es independiente de los coeficientes de seguridad, es decir, de la naturaleza o especie del material empleado.

VIII. En la armadura articulada fig. 8_a, la viga horizontal AB está dividida en cuatro campos iguales, cada uno = l metros. La carga como en el ejemplo anterior, luego carga total = $8pl$, de suerte que en cada uno de los apoyos A i B queda una fuerza exterior = $3pl$, dirigida verticalmente hácia arriba.

La figura 8_b contiene el plano de fuerzas correspondientes a nuestro sistema. La traslación de las flechas hace ver, que los 4 miembros del borde superior, así como las tres piezas verticales son comprimidas, todas las demás barras estiradas. A causa de la simetría de la construcción i carga con respecto a la barra media CH , solamente se necesitaba trazar el diagrama correspondiente a la mitad izquierda (fig. 8_b).

Como variable consideramos el ángulo z , que los bordes inferiores forman con la horizontal.

Nos preguntamos:

¿A qué valor del ángulo z corresponde un consumo mínimo de material?

Solucion: De la figura S_b se deduce inmediatamente:

$bc = l = 3 pl \cotj. z$; por consiguiente:

$$(1) \dots\dots V_1 = 3 m pl^2 \cotj. z, \quad ac = II = \frac{3 pl}{\sin z}, \quad \text{luego}$$

$$V_2 = \frac{3 n pl^2}{\sin z}; \quad \text{pero como } l_2 = \frac{l}{\cos z} \quad \text{se sigue:}$$

$$(2) \dots\dots \frac{3 n pl^2}{\sin z \cos z} \quad \text{Ademas se tiene: } III = cf = bd = 2 pl,$$

luego $V_3 = 2 m pl l_3$, i como $l_3 = l \tanj. z$, resulta

$$(3) \dots\dots V_3 = 2 m pl^2 \tanj. z. \quad IV = df = bt = l = 3 pl \cotj. z,$$

luego (4)..... $V_4 = 3 m pl^2 \cotj. z$.

Del triángulo isósceles fgc , donde $fg = V$, se deduce la proporcion: $V : III = \cos z : \sin 2z$, es decir

$$V = \frac{III}{2 \sin z} = \frac{2 pl}{2 \sin z} = \frac{pl}{\sin z}, \quad \text{i } V_5 = \frac{npl_5}{\sin z}; \quad \text{pero como}$$

$$l_5 = \frac{l}{\cos z}, \text{ resulta (5)..... } V_5 = \frac{n pl^2}{\sin z \cos z} \quad \text{Ademas tenemos}$$

$$VI = ag = \frac{2}{3} ac = \frac{2pl}{\sin z}; \quad \text{luego: } V_6 = \frac{2npl_6}{\sin z} \quad \text{i como}$$

$$l_6 = l_2 = \frac{l}{\cos z} \quad \text{finalmente: (6)..... } V_6 = \frac{2npl^2}{\sin z \cos z}$$

Es fácil ver que: $VII = gh = 2cf = 2III = 4pl$, luego $V_7 = 4mpl_7$, i como $l_7 = 2l \tanj. z$, (7)..... se tiene $V = 8mpl^2 \tanj. z$.

En el volúmen total V entran dobles todas las piezas con escepcion de la barra 7; por consiguiente obtenemos:

$$V = 6 m pl^2 \cotj. z + \frac{6npl^2}{\sin z \cos z} + 4mpl \tanj. z + 6npl^2 \cotj. z$$

$$+ \frac{2npl^2}{\sin z \cos z} + \frac{4npl^2}{\sin z \cos z} + 8mpl^2 \tan z.$$

$$\text{O sea } V = 12 mpl^2 (\tan z + \cot z) + \frac{12 npl^2}{\sin z \cos z}$$

$$\text{Pero se tiene en jeneral: } \frac{1}{\sin z \cos z} = \tan z + \cot z;$$

$$\text{Por consiguiente: } V = \frac{12 pl^2 (m+n)}{\sin z \cos z} = \frac{24 (m+n) pl^2}{\sin 2z}$$

Esta última espresion alcanza su *valor mínimo*, cuando $\sin 2z = 1$, luego $2z = 90^\circ$ i $Z = 45^\circ$ i $CH = 2l$.

Con esto queda resuelto el problema.

De nuevo, la disposicion mas favorable es totalmente independiente de la especie del material empleado.

IX. En la armadura fig. 9_a los nudos del borde inferior están situados sobre una *parábola*; entónces es $DF = EG = \frac{3}{4} CH$. La carga continua i uniforme = $2p$ por m. c.

El diagrama fig. 9_b se ha trazado únicamente para la mitad izquierda del sistema. No es difícil comprender (por razones jeométricas) que el esfuerzo que afecta la barra 5 es igual cero. Las piezas del borde inferior sufren traccion; todas las demas son comprimidas.

Tratamos de averiguar:

¿Cuál es la longitud X económicamente mas favorable para la pieza media vertical CH?

Solucion: La semejanza de los triángulos FDA i abc da la proporcion: $bc : AD = ab : DF$, o $I : l = 3 pl : \frac{3}{4} X$; por consi-

guiente: $I = \frac{4pl^2}{X}$, i (1)..... $V_1 = \frac{4mpl^2}{X}$; ademas

$ac : AF = ab : DF$, ó $II : l = 3pl : \frac{3}{4} X$; luego $II = \frac{4pll_2}{X}$

i $V_2 = 4 \frac{npll_2^2}{X}$; pero

$AF^2 = DF^2 = BD^2$, o sea $l_2^2 = \left(\frac{3}{4}X\right)^2 + l^2 = \frac{9}{16} X^2 + l^2$
por consiguiente:

$$(2) \dots\dots V_2 = \frac{9}{4} nplX + \frac{4npl^3}{X} \quad III = of = bd = 2pl, \text{ luego}$$

$$V_3 = 2 mpll_3, \text{ i como } l_3 = \frac{3}{4} X \text{ sigue (3) } \dots\dots V_3 = \frac{3}{4} mplX.$$

Ademas $IV = df = bc = I$, luego

$$(4) \dots\dots V_4 = V_1 = \frac{4npl^3}{X} \quad (5) \dots\dots V_5 = 0$$

Si en fig. 9_a se traza por F la horizontal FT , los triángulos FTH i fda son semejantes, i se deduce la proporcion:

$$af : FH = ad : HT, \text{ sea } VI : l_6 = pl : \frac{1}{4} X; \text{ luego } VI = \frac{4pll_6}{X}$$

$$\text{i } V_6 = \frac{4npll_6^2}{X}; \text{ pero } FH^2 = FT^2 + HT^2,$$

$$\text{o } l_6^2 = \left(\frac{1}{4}X\right)^2 + l^2 = \frac{1}{16} X^2 + l^2 \text{ por consiguiente}$$

$$6) \dots\dots V_6 = \frac{1}{4} npl X + \frac{4npl^3}{X}$$

Es fácil ver que $VII = fg = 2 a d = 2 p l$; luego

$$V_7 = 2 mpll_7, \text{ o sea (7) } \dots V_7 = 2m plX.$$

Con escepcion de la pieza media CH , todas las demas barras aparecen dos veces; por consiguiente obtenemos para el volúmen total V la expresion:

$$V = \frac{8 mpl^3}{X} + \frac{9}{2} nplX + \frac{8 npl^3}{X} + 3 mplX + \frac{8 mpl^3}{X} \\ + \frac{1}{2} nplX + \frac{8npl^3}{X} + 2 mplX.$$

$$\text{Por consiguiente: } V = \frac{16 pl^3}{X} (m+n) + 5 plx (m+n),$$

$$\text{i finalmente } V = (m+n) pl \left[\frac{16 l^2}{X} + 5X \right].$$

Diferenciando la función $y = \frac{16 l^2}{X} + 5X$, resulta:

$$y' = -\frac{16 l^2}{X^2} + 5, \text{ o sea } 5 X^2 = 16 l^2 \quad X = \frac{4 l}{\sqrt{5}} = \frac{4}{5} \sqrt{5} l.$$

Este valor produce un *minimum* del volúmen total i puede construirse geoméricamente.

La longitud encontrada para la disposición mas económica de la armadura es nuevamente independiente de los coeficientes de seguridad.

X. La fig. 10.^a representa una armadura con bordes paralelos (horizontales). La carga que se supone como en los ejemplos anteriores afecta al borde inferior = 4 l. El sistema de las fuerzas exteriores está marcado en la figura. Conforme a las reglas respectivas se ha construido en fig. 10b el diagrama de Cremona correspondiente, que manifiesta geoméricamente los esfuerzos producidos en cada una de las 13 barras de que se compone la construcción. Sufren compresion las piezas del borde superior i la barra 5; todas las demas partes componentes están sujetas a traccion.

Se trata de averiguar:

¿Qué altura vertical se debe dar a esta armadura para conseguir la mayor economía posible en el consumo de material?

Solucion: Como incógnita (variable) consideramos el ángulo z , que las barras extremas AC i BE del borde superior forman con el borde inferior, horizontal.

El triángulo de fuerzas abc da $bc = I = \frac{ab}{\sin z}$, luego,

$$V_1 = \frac{3 \text{ m pl } l_1}{\sin z} \quad \text{i como } l_1 = AC = \frac{AF}{\cos z} = \frac{l}{\cos z}, \text{ sigue}$$

$$V_1 = \frac{3 \text{ m pl}^2}{\sin z \cos z} \text{ o sea}$$

(1)..... $V_1 = 3 \text{ m pl}^2 \tan z + 3 \text{ m pl}^2 \cot z$. Además $ac = II = ab \cot z = 3 \text{ pl} \cot z$; luego

(2)..... $V_2 = 3 npl^2 \cot z$. III=cd=ab=3 pl; luego $V_3 = 3 npl$, i como $l_3 = FC = AF \tan z = l \tan z$, sigue

(3)..... $V_3 = 3 npl^2 \tan z$. IV = bd = II = 3 pl cot. z, luego

(4)..... $V_4 = 3 mpl^2 \cot z$.

Es fácil ver que $V = dg = \frac{pl}{\sen z}$, luego $V_5 = \frac{mpl^2}{\sen z}$; i como

$$l_5 = l_1 = \frac{l}{\cos z} \text{ resulta } V_5 = \frac{mpl^2}{\sen z \cos z}, \text{ o sea}$$

(5)..... $V_5 = mpl^2 \tan z + mpl^2 \cot z$.

VI=fg=bh=bd+dh=II+pl cotj z=4 pl cotj z; por consiguiente.

(6)..... $V_6 = 4n pl^2 \cotj z$. VII = gh = bf = pl, luego: $V_7 = npl$, i como $l_7 = l \tan z$

(7)..... $V_7 = npl^2 \tan z$. VIII = bh=fg=VI=4pl cotj z; de ahí:

(8)..... $V_8 = 4mpl^2 \cotj z$.

$$IX = hk = lg = V = \frac{pl}{\sen z}, \text{ luego: } V_9 = \frac{n pl^2}{\sen z},$$

$$i \text{ como: } l_9 = l_1 = \frac{l}{\cos z}, \text{ resulta: } V_9 = \frac{npl^2}{\sen z \cos z}, \text{ o sea:}$$

(9)..... $V_9 = npl^2 \tan z + npl^2 \cotj z$. X = ik = ac = II, luego: $V_{10} = V_2$ es decir

(10)..... $V_{10} = 3 npl^2 \cotj z$. XI = Kl = im = 2 pl, luego:

$V_{11} = 2 npl$, o sea

(11)..... $V_{11} = 2 npl^2 \tan z$. XII = lm = ac = II, luego $V_{12} = V_2$, o sea

(12)..... $V_{12} = 3 npl^2 \cotj z$. XIII = bl = bc = I, luego $V_{13} = V_1$, o sea

(13)..... $V_{13} = 3 mpl^2 \tan z + 3mpl^2 \cotj z$.

Sumando todos los volúmenes parciales se obtiene para el volúmen total V la siguiente espresion analítica:

$$V = pl^2 [7m \tan z + 7n \tan z + 14m \cotj z + 14n \cotj z] \text{ o sea } V = 7(m+n) pl^2 [\tan z + 2 \cotj z]$$

Diferenciando la funcion $y = \tan z + 2 \cotj z$, resulta

$$y' = \frac{1}{\cos^2 z} - \frac{2}{\sin^2 z} = 0,$$

o sea $\sin^2 z = 2 \cos^2 z$, o $\operatorname{tg}^2 z = 2$, o $\operatorname{tg} z = \sqrt{2}$

Si ahora consideramos como incógnita la altura de la armadura $GD=X$, se tiene: $\frac{X}{1} \operatorname{tanj} z = \sqrt{2}$; por consiguiente $X = \sqrt{2}$

Esta distancia es muy fácil de construir i produce un *valor mínimo* del volúmen total V , es decir del material que entra en la contruccion.

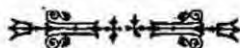
En el último caso tratado, atendiendo a la forma no totalmente simétrica de la armadura, resalta especialmente el hecho sorprendente de nuestras inquisiciones, a saber que la disposicion mas económica es la misma, de cualquier especte que sea el material que se emplee.

Es verdad que nuestros cálculos basan sobre suposiciones que prescinden de factores que en rigor deberian entrar; pero, con todo, somos de opinion que *nuestros resultados dan siempre una norma no despreciable para atender debida i racionalmente al importante factor de la economía, muchas veces lamentablemente descuidado por los hombres de profesion.*

El autor se reserva estender estos estudios a otras construcciones mas complicadas, i se apresurará a comunicar los resultados en estos ANALES.

Esslingen (Alemania), Agosto de 1896.

JULIO PFLUGER.



Anales del Instituto de Ingenieros

Tabla de Figuras (Nº I)

Fig. 6ª

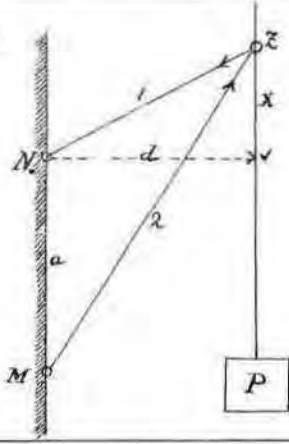


Fig. 6b.

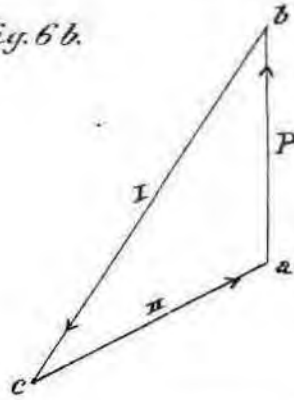


Fig. 7ª

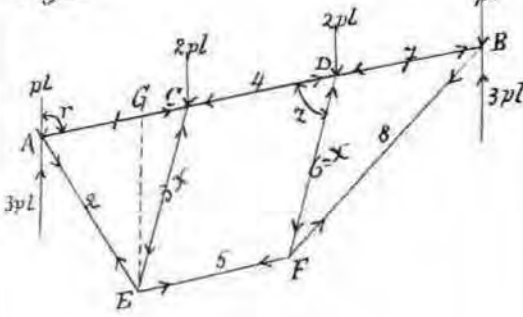


Fig. 7b

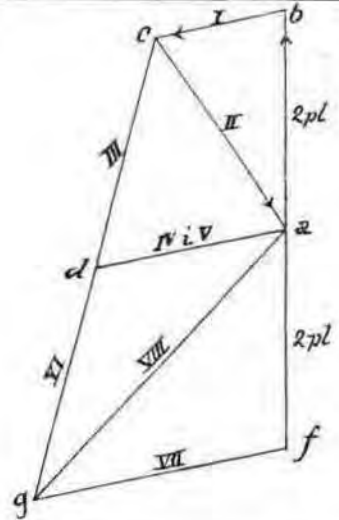


Fig. 8ª

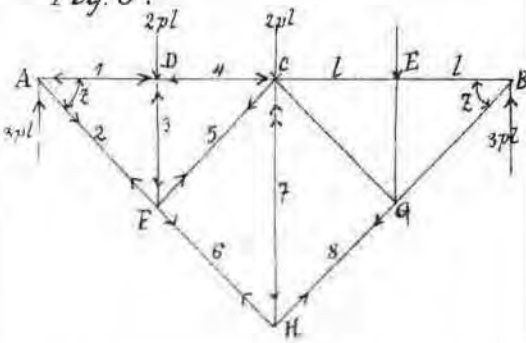
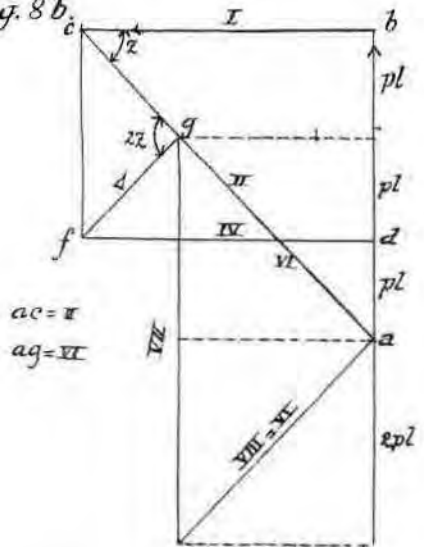


Fig. 8b



Anales del Instituto de Ingenieros

Tablas de Figuras (N.º II)

Fig 9^a

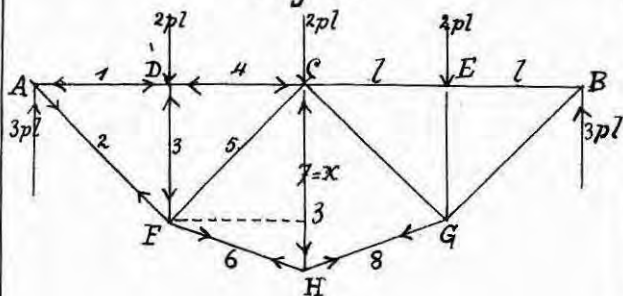


Fig 9^b

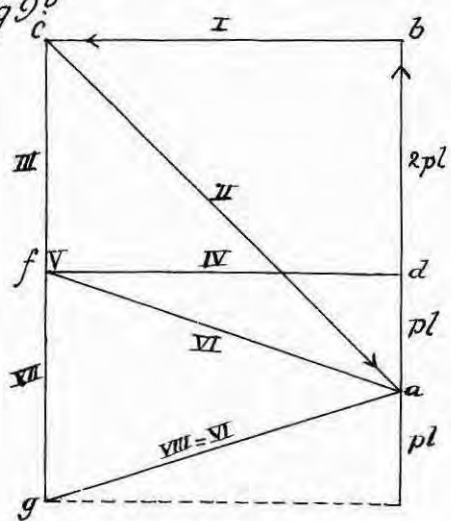


Fig 10^a

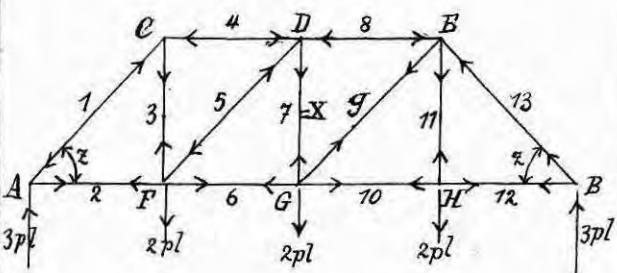


Fig 10^b

